

PREFEITURA MUNICIPAL DE FÁTIMA DO SUL, MS.

EDITAL Nº 001/2020 - PROCESSO SELETIVO.

PROVA OBJETIVA.

CARGO: PROFESSOR ENSINO FUNDAMENTAL – ANOS INICIAIS e EJA / Sede.

Leia atentamente as INSTRUÇÕES:

1. Não será permitido ao candidato realizar a prova usando óculos escuros (exceto para correção visual, ou fotofobia, desde que informe no ato da inscrição), ou portar aparelhos eletrônicos (mesmo desligados), qualquer tipo de relógio, chaves, carteira, bolsa, acessórios que cubram o rosto, a cabeça, ou parte desta.
2. Poderá ser eliminado, deste Processo Seletivo, o candidato cujo(s) aparelho(s) eletrônico(s), mesmo desligado(s), emitir(em) qualquer som durante a realização da prova. O tempo em que permanecer no local, onde estará ocorrendo o Processo Seletivo, o candidato deverá manter o celular desligado, sendo permitido ligá-lo somente após ultrapassar o portão de saída do prédio, sob pena de ser eliminado deste Processo Seletivo.
3. O candidato poderá manter em cima da sua carteira apenas lápis, borracha, caneta, um documento de identificação e lanche, exceto líquido. **Outros pertences**, antes do início das provas, o candidato deverá acomodá-los embaixo de sua cadeira, sob sua guarda e responsabilidade.
4. Confira se a sua prova tem **40** questões, cada qual com 4 alternativas, veja se o cargo para o qual se inscreveu está correto.
5. Confira seus dados no cartão-resposta (nome, número de inscrição e o cargo para o qual se inscreveu) e **ASSINE** o mesmo.
6. Preencha toda a área do cartão-resposta correspondente à alternativa de sua escolha, com caneta esferográfica (tinta azul, ou preta), sem ultrapassar as bordas. As marcações duplas, ou rasuradas com corretivo, ou marcadas diferentemente do modelo estabelecido no cartão-resposta poderão ser anuladas.
7. Observe as orientações apresentadas no cartão-resposta. O mesmo não será substituído, salvo se contiver erro de impressão.
8. Aguarde a autorização do fiscal para abrir o caderno de provas. Ao receber a ordem, confira-o com muita atenção. Nenhuma reclamação sobre o total de questões, ou falha de impressão, será aceita depois de iniciada a prova.
9. Cabe apenas ao candidato a interpretação das questões, o fiscal não poderá fazer nenhuma interferência. A Prova Objetiva terá duração máxima de **3h (três horas)**, incluso o tempo destinado ao preenchimento do cartão-resposta.
10. O candidato poderá se retirar do local da prova somente **1h (uma hora)** após seu início, levando seu caderno de prova.
11. Ao terminar sua prova, o candidato deverá entregar ao fiscal de sala o cartão-resposta preenchido, assinado e retirar-se do recinto, onde está ocorrendo a mesma, não lhe sendo mais permitido o uso do banheiro e bebedouro.
12. Os **3 (três)** candidatos, que terminarem a prova por último, deverão permanecer na sala, só poderão sair juntos, após o fechamento do envelope, contendo os cartões-respostas dos candidatos presentes e ausentes, assinarem no lacre do referido envelope, atestando que este foi devidamente lacrado.

BOA PROVA!

LÍNGUA PORTUGUESA.

Leia o texto para responder à próxima questão.

O menino que carregava água na peneira. (Manoel de Barros).

Tenho um livro sobre águas e meninos.
Gostei mais de um menino
que carregava água na peneira.

A mãe disse que carregar água na peneira
era o mesmo que roubar um vento e
sair correndo com ele para mostrar aos irmãos.

A mãe disse que era o mesmo
que catar espinhos na água.
O mesmo que criar peixes no bolso.

O menino era ligado em despropósitos.
Quis montar os alicerces
de uma casa sobre orvalhos.

A mãe reparou que o menino
gostava mais do vazio, do que do cheio.
Falava que vazios são maiores e até infinitos.

Com o tempo aquele menino
que era cismado e esquisito,
porque gostava de carregar água na peneira.

Com o tempo descobriu que
escrever seria o mesmo
que carregar água na peneira.

No escrever o menino viu
que era capaz de ser noviça,
monge ou mendigo ao mesmo tempo.

O menino aprendeu a usar as palavras.
Viu que podia fazer peraltagens com as palavras.
E começou a fazer peraltagens.

Foi capaz de modificar a tarde botando uma chuva nela.
O menino fazia prodígios.
Até fez uma pedra dar flor.

A mãe reparava o menino com ternura.
A mãe falou: Meu filho você vai ser poeta!
Você vai carregar água na peneira a vida toda.

Você vai encher os vazios
com as suas peraltagens,
e algumas pessoas vão te amar por seus despropósitos!

01. De acordo com o texto, assinale a alternativa incorreta.

- a) A mãe do eu lírico disse-lhe que algumas pessoas o amariam por seus despropósitos.
- b) A mãe do eu lírico o via com meiguice, afeição, doçura e afetividade.
- c) O eu poético afirma que sua mãe reparou que ele gostava mais do vazio, do que do cheio.
- d) O poeta viu que não podia fazer peraltagens com as palavras, então, nunca mais as fez.

02. Sobre o correto uso, ou não do hífen, marque a alternativa incorreta.

- a) Ano-luz / arco-íris / tio-avô.
- b) Baía de Todos-os-Santos / Grã-Bretanha / Trás-os-Montes.
- c) Cão-de-guarda / cor-de-vinho / quem-quer-que-seja.

d) Abóbora-menina / couve-flor / bênção-de-deus.

03. Quanto ao acento tônico das palavras, coloque (V) verdadeiro ou (F) falso e marque a alternativa correta.

- () Cateter, Gibraltar, ureter. (Oxítonas).
 - () Gratuito, periferia, rubrica. (Paroxítonas).
 - () Ônix, misantropo, êxul. (Paroxítonas).
 - () Zênite, zéfiro, Tâmisa. (Proparoxítonas).
 - () Ágape, amálgama, aríete. (Proparoxítonas).
 - () Sutil, Nobel, novel. (Oxítonas).
- a) F – V – F – F – V – V.
 - b) F – V – V – V – V – V.
 - c) V – V – V – V – V – V.
 - d) V – F – V – F – V – V.

04. Assinale a alternativa, onde todas as palavras são acentuadas pela mesma razão.

- a) Túnel / hífen / vírus.
- b) Órfã / náusea / açúcar.
- c) Bíceps / sofá / anéis.
- d) Sóis / álbum / sábado.

05. Assinale a alternativa onde temos um ditongo crescente.

- a) Afrouxar.
- b) Tranquilo.
- c) Patrão.
- d) Ameixa.

06. Em relação à classificação das palavras quanto ao número de sílabas, coloque (V) verdadeiro ou (F) falso e marque a alternativa correta.

- () Monossílabas (Mono = Um): são as palavras que têm apenas uma sílaba. Exemplos: pé / mau.
 - () Dissílabas (Di = Dois): são as palavras que têm duas sílabas. Exemplos: Dia / iguais.
 - () Trissílabas (Tri = Três): são as palavras que têm três sílabas. Exemplos: torneira / saúde.
 - () Polissílabas (Poli = vários): são as palavras que têm quatro ou mais sílabas. Exemplos: ambulância / pontualidade.
- a) V – V – F – V.
 - b) V – V – V – V.
 - c) V – V – V – F.
 - d) V – F – V – V.

07. Marque a alternativa, onde temos uma oração subordinada adverbial concessiva.

- a) Embora tivéssemos planejado tudo, houve transtornos na viagem.
- b) Falou com tal firmeza, que todos acreditaram.
- c) Como estou doente, precisava de acompanhamento médico.
- d) Chegaremos na hora marcada, salvo se o trânsito estiver muito ruim.



Fonte: <https://i.pinimg.com/originals/dc/80/fa/dc80fa6ff29f9c55db5ad674ca895609.jpg>

No primeiro quadrinho da tirinha, temos em “e estou pronto”:

- a) Uma oração coordenada assindética.
- b) Uma oração coordenada sindética explicativa.
- c) Uma oração coordenada sindética adversativa.
- d) Uma oração coordenada sindética aditiva.

09. No lugar das reticências, use um dos porquês, conforme convier e marque a alternativa correta.

1- Mariana, você não fez o exercício?

2- Não fiz o doce não sabia.

3- Foi essa a razão você me fez essa pergunta?

4- Ela não disse está triste.

5- Todos sabem o de ela ter faltado.

- a) Por que / porque / por que / porque / porquê.
- b) Porque / porque / por que / porque / porquê.
- c) Por que / por que / por que / porque / porquê.
- d) Por que / porque / por que / porque / porque.

10. Sobre o plural dos substantivos, marque a alternativa incorreta.

- a) O substantivo cálice possui também a forma cálix. Sua forma plural é cales.
- b) O plural de caráter é caracteres, júnior é juniores e sênior é seniores.
- c) A forma plural das palavras –ens não tem acento gráfico (hifens).
- d) O substantivo cânon admite uma só forma plural: cânones.

RACIOCÍNIO LÓGICO.

11. Em uma campanha para a conscientização da população sobre a Covid-19, a Prefeitura de Fátima do Sul decidiu confeccionar panfletos educativos. Sabendo que na Prefeitura, 8 impressoras iguais produzem 2.840 panfletos, quantos panfletos 10 impressoras produziriam no mesmo período de tempo?

- a) 2.272.
- b) 3.190.
- c) 3.550.
- d) 3.124.

12. A Prefeitura de Fátima do Sul reformará seu estacionamento colocando ladrilhos. Sabendo-se que os ladrilhos são quadrados de 20cm de lado, quantos ladrilhos serão necessários para preencher o estacionamento que mede 8 metros de comprimento e 6 metros de largura?

- a) 120.
- b) 700.
- c) 960.
- d) 1.200.

13. Na segunda etapa para o desempate de um concurso, foi aplicada uma prova de duas questões para os candidatos. Sabendo-se que nessa prova compareceram 200 candidatos, que 125 acertaram a segunda questão, 50 acertaram as duas questões e 25 erraram as duas questões, quantos candidatos acertaram apenas a primeira questão?

- a) 0.
- b) 25.
- c) 50.
- d) 75.

14. A soma de um número Y e seus três primeiros sucessores é 146. Qual é o valor de Y?

- a) 35.
- b) 42.
- c) 49.
- d) 37.

15. O Município de Fátima do Sul, no Mato Grosso do Sul, foi emancipado do Município de Dourados, em 11 de dezembro de 1963. Sabendo-se que o dia da emancipação caiu em uma sexta-feira e a comemoração oficial ocorreu 130 dias após, em qual dia da semana ocorreu a comemoração?

- a) Domingo.
- b) Quarta-feira.
- c) Sábado.
- d) Terça-feira.

CONHECIMENTOS GERAIS.

16. De acordo com a Lei nº 14.118, de janeiro de 2021, que instituiu o Programa Casa Verde e Amarela, atribua (V) verdadeiro ou (F) falso aos itens e indique a alternativa correspondente.

() Para garantia da posse legítima dos empreendimentos habitacionais adquiridos, ou construídos pelo Programa Casa Verde e Amarela ainda não alienados aos beneficiários finais que venham a sofrer turbacão,

ou esbulho, poderão ser empregados atos de defesa, ou de esforço diretos, inclusive por meio do auxílio de força policial.

() Promoção do planejamento integrado com as políticas urbanas de infraestrutura, de saneamento, de mobilidade, de gestão do território e de transversalidade com as políticas públicas de meio ambiente e de desenvolvimento econômico, social, com vistas ao desenvolvimento urbano sustentável, é uma das diretrizes do Programa Casa Verde e Amarela.

() Dentre outros, é objetivo do Programa Casa Verde e Amarela, estimular a inserção de microempresas, de pequenas empresas e de microempreendedores individuais, do setor da construção civil e de entidades privadas sem fins lucrativos nas ações do Programa Casa Verde e Amarela.

() O prestador dos serviços públicos de distribuição de energia elétrica, deve disponibilizar infraestrutura de rede e instalações elétricas, até os pontos de conexão necessários à implantação dos serviços nas edificações e nas unidades imobiliárias, decorrentes de políticas públicas habitacionais.

a) V – V – F – V.

b) F – V – V – V.

c) V – V – V – V.

d) V – F – V – F.

17. Assinale a alternativa que não está em conformidade com o Decreto nº 001/GP/21, de 06 de janeiro de 2021.

a) Fica determinado ao Serviço de Vigilância Sanitária o monitoramento sobre o cumprimento do estabelecido no art. 1º, da Lei nº 1.278, de 04 de junho de 2020, que torna obrigatório o uso de máscara por todas as pessoas que estiverem fora de sua residência, durante a pandemia do Coronavírus (COVID-19).

b) Permanece vedada a aglomeração de pessoas, inclusive em suas residências, sob pena de infração ao art. 268, do Código Penal.

c) Permanece proibido o consumo de bebidas alcoólicas nas vias públicas, salvo nos locais onde tal é permitido (calçadas de lanchonetes, conveniências e restaurantes), devendo ser observadas as regras de distanciamento.

d) Caso haja resistência ao não cumprimento do uso da máscara, o Agente Público poderá prender o infrator, conforme o estabelecido nos incisos I e II do art. 3º, da Lei nº 1.278, de 04 de junho de 2020.

Leia a notícia publicada no site <https://www.bbc.com/portuguese/internacional-55480373>, para responder às próximas duas questões.

Como cientista da Nasa de Uganda, Catherine Nakalembe, usa satélites para impulsionar a agricultura.

Como uma entusiasta jogadora de badminton, a ugandense Catherine Nakalembe, queria estudar ciências do esporte na universidade, mas o fracasso em obter as notas exigidas para um subsídio do governo a colocou no caminho que a levou à Nasa. E ainda ganhou um relevante prêmio de pesquisa em alimentos, escreve Patience Atuhaire da BBC.

Quando Nakalembe tentou explicar a um fazendeiro de Karamojong, no nordeste de Uganda, como o trabalho dela usando imagens tiradas de satélites, centenas de quilômetros acima da Terra, se relaciona com seu pequeno terreno, ele riu.

Embora ela use as imagens em alta resolução, em seu trabalho pioneiro, para ajudar os agricultores e os governos a tomarem melhores decisões, ela ainda precisa trabalhar para aprimorar os dados.

Em outras palavras, do espaço você não pode dizer a diferença entre grama, milho e sorgo.

"Por meio de um tradutor, disse ao fazendeiro que quando olho os dados, vejo apenas o verde. Eu imprimo uma foto, que mostrei a ele. Ele então foi capaz de entender que... é preciso visitar a fazenda fisicamente para fazer essas distinções", disse a pesquisadora à BBC.

[...]

1. Nakalembe, professora assistente do departamento de ciências geográficas da Universidade de Maryland, nos Estados Unidos, usa os dados de satélite para estudar a agricultura e os padrões climáticos.

2. Essas informações são combinadas com dados coletados in loco, sobre as safras e suas condições, para construir um modelo que aprenda reconhecer padrões para ajudar a fazer as análises.

3. Foi isso que deu a ela o Africa Food Prize (Prêmio Alimentos da África 2020, em tradução livre), ao lado de André Bationo de Burkina Faso, pelo trabalho dele com fertilizantes.

4. A cientista, que também chefia a seção africana do programa de alimentação e agricultura da Nasa, explica: "Do ar, dá para ver qual área é construída, se está limpa, se tem vegetação, ou água.

[...]

18. Sobre os itens, numerados de 1 a 4, podemos afirmar que:

a) Todos estão conforme publicados no referido site.

b) Apenas 1 e 3 estão conforme publicados no referido site.

c) Apenas 2 e 4 estão conforme publicados no referido site.

d) Apenas 1, 2 e 4 estão conforme publicados no referido site.

19. Uganda é um país do(a):

- a) Etiópia.
- b) África.
- c) Nigéria.
- d) Sudão.



20.

Um colecionador [...] comprou o desenho original dos anéis olímpicos no último domingo (26/07/2020), em um leilão em Cannes, na França. Uma das obras mais raras do esporte mundial, o desenho assinado pelo Barão Pierre Coubertin, considerado o Fundador das Olimpíadas Modernas, custou nada menos do que 234.000 euros (algo como 1,4 milhão de reais).

A expectativa da casa de leilões de Cannes era de que o desenho seria vendido por “apenas” 100.000 euros (cerca de 600.000 reais), mas o colecionador comprou por 185.000 euros (1,1 milhão de reais), que somados à comissão da casa totalizaram 234.000 euros.


(Fonte: <https://correio9.com.br>).

O colecionador que comprou o desenho original dos anéis olímpicos é:

- a) Belga.
- b) Japonês.
- c) Francês.
- d) Brasileiro.

Observe a notícia publicada no site <https://www.bbc.com/portuguese> e responda às próximas duas questões.

Kernowite: Novo mineral é descoberto em rocha extraída há 220 anos na Inglaterra.



Legenda da foto: A kernowite tem cor verde escura e foi encontrada em uma rocha extraída há mais de dois séculos.

Um "incrível" mineral acaba de ser descoberto por cientistas que analisaram uma rocha extraída na Cornualha, [...], há cerca de 220 anos.

[...]

Um grupo liderado pelo mineralogista do Museu de História Natural (NHM), Mike Rumsey, fez a descoberta, enquanto estudava uma rocha retirada da mina Wheal Gorland, no vilarejo de St Day.

Rumsey disse: "É incrível que em 2020 estejamos conhecendo um novo mineral".

Durante séculos, mineralogistas acreditaram que os cristais verdes seriam uma variação de outro mineral, o liroconito, mas Rumsey e sua equipe descobriram que ele tem composição química diferente.

Conhecida mundialmente pelas reservas minerais, a Cornualha tem uma importante história de mineração e status de patrimônio mundial da Unesco.

"Muitas dessas descobertas aconteceram há mais de 100 anos, quando as minas ainda estavam ativas, por isso a descoberta de um novo mineral da Cornualha, particularmente, um relacionado ao mineral mais famoso da região, é realmente incrível", disse Rumsey, curador principal de minerais do Museu de História Natural de Londres.

Considerando quantos geólogos, garimpeiros e coletores vasculharam a área ao longo dos séculos em busca de tesouros minerais, é incrível que em 2020 estejamos identificando um novo mineral."

[...]

21. Leia os itens.

1. O mineral verde escuro foi chamado de "kernowite" - nome em inglês - em homenagem a Kernow, a palavra do idioma cornoico original da região da Cornualha.
2. A descoberta já foi aprovada pela Associação Internacional de Mineralogia e o novo tipo será publicado na Mineralogical Magazine, uma importante revista especializada, no próximo ano.
3. Rumsey disse que a maior parte do liroconito vem de Wheal Gorland, acrescentando: "A mina foi usada entre 1790 e 1909, mas foi demolida agora. Há um conjunto habitacional ali e não sobrou nada. É uma localidade extinta, não podemos voltar mais."
4. "O que temos é um pouco como uma pequena cápsula do tempo", disse Rumsey. "O fato de essa amostra ter sido preservada em um museu, significa que nos permitiu fazer esse tipo de pesquisa, porque nunca seríamos capazes de voltar e coletar mais."

De acordo com a notícia, podemos afirmar que:

- a) Todos os itens são verdadeiros.
- b) Apenas o item 1 é verdadeiro.
- c) Apenas os itens 2 e 3 são verdadeiros.
- d) Apenas os itens 1 e 2 são verdadeiros.

22. Cornualha fica:

- a) No Sul da Inglaterra.
- b) No Vilarajo de St Day.
- c) Na Região Litorânea, no Oeste da Inglaterra.
- d) Na Rússia.

23. Leia a notícia publicada no site <https://g1.globo.com> e marque a alternativa que completa corretamente as lacunas.

Ministério da Saúde começa a distribuição da CoronaVac para todo o Brasil.

Estados receberão a partir desta segunda-feira (18/01/2021) quase 6 milhões de doses da vacina e poderão começar campanhas de vacinação às 17h (horário de Brasília).

1. _____ começa a distribuir, nesta segunda-feira (18/01/2021), quase 6 milhões de doses da CoronaVac para todos os estados e o Distrito Federal. Os estados poderão iniciar as campanhas de vacinação a partir das 17h (horário de Brasília).

Das 6 milhões de doses, 4.636.936 serão enviadas aos estados brasileiros. As outras 1.357.640 serão distribuídas no Estado de São Paulo, segundo o governo estadual.

Os primeiros voos sairão de São Paulo para o Distrito Federal e para as capitais de dez estados: Acre, Amapá, Amazonas, Ceará, Goiás, Mato Grosso do Sul, Piauí, Rondônia, Roraima e Santa Catarina.

2. A distribuição das vacinas será feita com aviões _____ e caminhões com áreas de carga refrigeradas. As Companhias Aéreas Azul, Gol, Latam e Voepass, também farão o transporte gratuito das caixas de vacinas para todos os estados que necessitarem de transporte aéreo.

3. Depois que as vacinas forem entregues aos estados, os governos estaduais serão responsáveis por levar as vacinas até os municípios, em parceria com _____.

[...]

- a) 1 (O Ministério da Saúde) / 2 (da Força Aérea Brasileira - FAB) / 3 (o Ministério da Defesa).
- b) 1 (O Ministério da Saúde) / 2 (da Força Aérea Brasileira - FAB) / 3 (as Secretarias Municipais de Saúde).
- c) 1 (A ANVISA) / 2 (do Ministério da Defesa) / 3 (o Exército Brasileiro).
- d) 1 (A ANVISA) / 2 (do Exército Brasileiro) / 3 (o Corpo de Bombeiros).

24. Qual o tema da redação do ENEM 2020, ocorrido no dia 17 de janeiro de 2021?

- a) Democratização do acesso ao cinema no Brasil.
- b) A relação econômica da pandemia do coronavírus (COVID-19) no Brasil.
- c) O impacto da pandemia na educação superior brasileira.
- d) O estigma associado às doenças mentais na sociedade brasileira.

25. Leia a notícia publicada no site <https://referencia.com/africa/onu-organizacoes-internacionais>.

ONU: Organizações internacionais criam estoque de vacinas contra [...].

Reserva de 500 mil doses busca garantir resposta imediata aos próximos surtos de [...] em países emergentes.

As quatro principais organizações internacionais humanitárias e de saúde anunciaram a criação de um estoque global de vacinas contra o [...], anunciou a ONU (Organização das Nações Unidas) na terça-feira (12/01/2021).

A iniciativa é do Grupo de Coordenação Internacional sobre Provisão de Vacinas, que inclui a OMS (Organização Mundial da Saúde), Unicef (Fundo das Nações Unidas para a Infância), a Federação Internacional das Sociedades da Cruz Vermelha e a Entidade Médicos Sem Fronteiras.

A iniciativa conta com o apoio financeiro da Aliança da Vacina Gavi. O estoque permitirá aos países conter futuras epidemias de [...], garantindo o acesso às vacinas para as populações em risco.

A notícia refere-se à epidemia de:

- a) Sarampo.
- b) Ebola.
- c) Covid.
- d) Dengue.

CONHECIMENTOS ESPECÍFICOS.

26. Atribua (V) verdadeiro ou (F) falso aos itens e indique a alternativa correspondente.

() A Meta 20, ampliar o investimento público em educação pública de forma a atingir, no mínimo, o patamar de 7% (sete por cento) do Produto Interno Bruto - PIB do País no 5º (quinto) ano de vigência desta Lei e, no mínimo, o equivalente a 10% (dez por cento) do PIB ao final do decênio, tem como uma das Estratégias desenvolver, por meio do Instituto Nacional de Estudos e Pesquisas Educacionais Anísio Teixeira - INEP, estudos e acompanhamento regular dos investimentos e custos por aluno da educação básica e superior pública, em todas as suas etapas e modalidades.

() A Meta 19, estabelece condições, no prazo de 2 (dois) anos, para a efetivação da gestão democrática da educação, associada a critérios técnicos de mérito e desempenho e à consulta pública à comunidade escolar, no âmbito das escolas públicas, prevendo recursos e apoio técnico da União para tanto, estabelece como Estratégia, dentre outras, incentivar os Estados, o Distrito Federal e os Municípios a constituírem Fóruns Permanentes de Educação, com o intuito de coordenar as conferências municipais, estaduais e distrital bem como efetuar o acompanhamento da execução deste PNE e dos seus planos de educação.

() A Meta 18, fixa no prazo de 2 (dois) anos, a existência de planos de Carreira para os (as) profissionais da educação básica e superior pública de todos os sistemas de ensino e, para o plano de Carreira dos (as) profissionais da educação básica pública, tomar como referência o piso salarial nacional profissional, definido em lei federal, nos termos do inciso VIII, do art. 206 da Constituição, cita estimular a participação e a consulta de profissionais da educação, alunos (as) e seus familiares na formulação dos projetos político-pedagógicos, currículos escolares, planos de gestão escolar e regimentos escolares, assegurando a participação dos pais na avaliação de docentes e gestores escolares, como uma das suas estratégias.

- a) V – V – V.
- b) F – V – V.
- c) V – V – F.
- d) V – F – V.

27. Nas décadas de 1960 e 1970 foram realizados estudos que evidenciaram a existência de diferentes categorias de currículo, constatando-se sua função de indicador do nível de aprendizagem dos educandos. Visando compreender a organização do currículo, destacam-se três modelos apontados por Platt e Abrahão (s.d): currículo real, formal e oculto (DIÁLOGOS PEDAGÓGICOS: A educação em pauta, Volume 04 – O CURRÍCULO NA EDUCAÇÃO: CONSTRUÇÃO DO CONHECIMENTO – Scynthia Padovani Bernabé; Geane Aparecida Figueiredo Kuster).

Partindo desta informação, relacione o tipo de currículo à sua respectiva descrição e assinale a alternativa que apresenta a sequência correta.

- (1) Currículo Real.
- (2) Currículo Formal.
- (3) Currículo Oculto.

() É o conjunto de diretrizes normativas prescritas institucionalmente, como por exemplo, os Parâmetros Curriculares Nacionais (PCN's) divulgados pelo Ministério da Educação, as propostas curriculares dos Estados e Municípios.

() É aquele que passa a ter existência no ambiente escolar com os professores e educandos, resultante do Projeto Político Pedagógico e dos objetivos de ensino.

() Não se apresenta de forma precisa. Ele não é prescrito, não aparece no planejamento, embora constitua importante fator de aprendizagem.

- a) (1) – (2) – (3).
- b) (2) – (1) – (3).
- c) (3) – (1) – (2).

d) (2) – (3) – (1).

28. A escola é entendida como a organização capaz de produzir elementos adaptáveis ao mercado de trabalho. O centro do processo são os meios didáticos. Usam-se os manuais, os filmes, os slides, as cartilhas de ensino programado, os módulos de ensino.

Esta concepção refere-se a qual Tendência Pedagógica?

- a) Tecnicista.
- b) Tradicional.
- c) Libertária.
- d) Libertadora.

29. À luz da Base Nacional Comum Curricular (BNCC), analise as assertivas e assinale a incorreta.

- a) É uma das Competências Gerais da Educação Básica, exercitar a curiosidade intelectual e recorrer à abordagem própria das ciências, incluindo a investigação, a reflexão, a análise crítica, a imaginação e a criatividade, para investigar causas, elaborar e testar hipóteses, formular e resolver problemas e criar soluções (inclusive tecnológicas) com base nos conhecimentos das diferentes áreas.
- b) Consoante aos marcos legais anteriores, o PNE afirma a importância de uma base nacional comum curricular para o Brasil, com o foco na aprendizagem como estratégia para fomentar a qualidade da Educação Básica em todas as etapas e modalidades (meta 7), referindo-se a direitos e objetivos de aprendizagem e desenvolvimento.
- c) O conceito de competência, adotado pela BNCC, marca a discussão pedagógica e social das últimas décadas e pode ser inferido no texto da LDB, especialmente quando se estabelecem as finalidades gerais da Educação Básica e Superior.
- d) Independentemente da duração da jornada escolar, o conceito de educação integral com o qual a BNCC está comprometida, refere-se à construção intencional de processos educativos que promovam aprendizagens sintonizadas com as necessidades, as possibilidades e os interesses dos estudantes e, também, com os desafios da sociedade contemporânea. Isso supõe considerar as diferentes infâncias e juventudes, as diversas culturas juvenis e seu potencial de criar novas formas de existir.

30. Na BNCC, _____ como a mobilização de conhecimentos (conceitos e procedimentos), habilidades (práticas, cognitivas e socioemocionais), atitudes e valores para resolver demandas complexas da vida cotidiana, do pleno exercício da cidadania e do mundo do trabalho.

Marque a alternativa que completa o texto corretamente.

- a) projeto político pedagógico é definido
- b) currículo é definido
- c) avaliação é definida
- d) competência é definida

31. O uso das Tecnologias de Informação e Comunicação (TIC) está se disseminando atingindo gradativamente a escola e, conseqüentemente, a prática pedagógica utilizada pelos professores nas salas de aula (As tecnologias nas práticas pedagógicas inclusivas / Claudia Regina Mosca Giroto, Rosimar Bortolini Poker, Sadao Omote (org.) – Marília : Oficina Universitária; São Paulo : Cultura Acadêmica, 2012. 238.p.).

Analise as afirmativas sobre o uso das Tecnologias de Informação e Comunicação (TIC) na educação e assinale a alternativa incorreta.

- a) A introdução das TIC nas escolas, em diferentes áreas do currículo, deve promover um nível satisfatório de autonomia preparando os alunos para se integrarem em seu meio sociocultural e, também, no mundo do trabalho.
- b) A educação de alunos com necessidades educacionais especiais exige o uso de serviços especializados durante boa parte, ou durante toda a sua educação. Neste sentido, a tecnologia assistiva tem assumido fundamental importância para possibilitar o acesso ao currículo e garantir a aprendizagem desses alunos.
- c) Os recursos das TIC devem ser amplamente utilizados a favor da educação de todos os alunos, exceto para aqueles que apresentam peculiaridades que lhes impedem, ou dificultam a aprendizagem por meios convencionais.
- d) As TIC tratam-se de um conjunto de ferramentas colocados à disposição do ensino que podem contribuir efetivamente na mediação significativa entre o aluno e o conhecimento, porém elas, por si só, não garantem a escolarização do aluno.

32. “O fechamento de escolas em um número crescente de países para conter a propagação da COVID-19 está atrapalhando a educação de milhões de estudantes em todo o mundo. A UNESCO compartilha 10 recomendações para garantir que a aprendizagem permaneça sem interrupções durante esse período”. Fonte: <https://pt.unesco.org/news/covid-19-10-recomendacoes-planejar-solucoes-aprendizagem-distancia>.

Das dez recomendações, destacamos a de número 5 - Planeje o cronograma de estudos dos programas de ensino a distância, que orienta:

I. Organize discussões com as partes interessadas para examinar a possível duração do fechamento da escola, assim como para decidir se o programa de educação a distância deve se concentrar no ensino de novos conhecimentos, ou no aprimoramento do conhecimento dos estudantes a respeito das lições anteriores.

II. Planeje o cronograma, dependendo da situação das áreas afetadas, do nível de estudos, das necessidades dos estudantes e da disponibilidade dos pais. Escolha as metodologias de aprendizagem adequadas, com base na situação do fechamento das escolas e quarentenas em casa.

III. Evite metodologias de aprendizagem que exijam comunicação “cara a cara”.

De acordo com a referida fonte, podemos afirmar que:

- a) Todos os itens são verdadeiros.
- b) Apenas os itens I e II são verdadeiros.
- c) Apenas o item II é verdadeiro.
- d) Apenas o item III é verdadeiro.

Tomando por base a obra - Diálogos pedagógicos: a educação em pauta. Vol. 1. São Carlos: Pedro & João Editores, 2020. 278p., responda às próximas duas questões.

33. “Durante muitos séculos, a infância foi vista como uma fase do desenvolvimento humano irrelevante. Acreditou-se que a criança fosse uma miniatura do adulto e deveria comportar-se como tal. O universo infantil das brincadeiras, faz de conta, histórias de conto de fadas, músicas, imaginação, seu mundo simbólico pouco importava. O direito de ser criança era suprimido. Entretanto, cabe destacar que o processo educacional, seus objetivos, currículos e métodos são suscetíveis ao contexto histórico de cada época.” (VISÃO HISTÓRICA SOBRE A EDUCAÇÃO INFANTIL NO BRASIL ATÉ A CONSTITUIÇÃO FEDERAL DE 1988 - Regina Célia da Silva).

Tendo como referência a citação, leia as alternativas e marque a incorreta.

- a) O Projeto Educacional Jesuítico ia além da catequização, pois tinha como ápice implementar mudanças sociais na Cultura Indígena Brasileira, trabalho desenvolvido, gradativamente, e que conseguiu alcançar seu objetivo, na fase do período colonial.
- b) No final do Século XIX e início do Século XX, ocorreram fatos internos importantes como a Proclamação da República, os quais influenciaram a criação das instituições destinadas a atender as crianças. As novas demandas da sociedade deixavam claro a necessidade de “civilizar” as crianças.
- c) A Educação Infantil, no Brasil, sofreu influência das concepções de infância e modelo institucional americano.
- d) A origem das creches e jardins de infância, no Brasil, justificaram-se por um longo período, apenas no vértice do cuidar, deixando de explorar, de forma pedagógica, as ricas experiências do mundo infantil que contribuem para as aprendizagens futuras e na formação do cidadão.

34. “É importante conhecer os fatores que contribuem para a construção da aprendizagem, bem como influenciam a aquisição de saberes. É fundamental que os professores da Educação Infantil desenvolvam as atividades educacionais observando fatores construtivistas, incluindo as atividades lúdicas como fonte de prazer, alegria, descontração, convivência agradável, que favorecem a aprendizagem. (DESENVOLVIMENTO COGNITIVO NA EDUCAÇÃO INFANTIL - Sueli Carvalho Silveira Nogueira).”

Partindo de tal reflexão, atribua (V) verdadeiro ou (F) falso às assertivas e marque a alternativa correspondente.

() Tomando como respaldo a teoria de Vygotsky, na perspectiva sócio-histórica, o conhecimento se processa não somente por uma dotação biológica, ou por ações específicas sobre os objetos, mas pela dinâmica social.

() No entendimento de Piaget, quando uma criança pega uma vareta para puxar um objeto que está distante, considera-se isto um ato de inteligência. Mas é uma inteligência que só é possível com a presença de objetos, não se pode dizer ainda de que isso é inteligência propriamente dita.

() Segundo Vygotsky, as atividades com caráter mais lúdico se mostram mais significativas para as crianças, podendo-se observar que em diversos momentos livres, os temas abordados eram representados dentro do universo de suas brincadeiras, sendo essa representação uma importante forma de expressão e desenvolvimento.

() Para Piaget, o conhecimento não ocorre pelas informações que os objetos têm, mas pela ação do sujeito sobre essas informações, transformando-as em conhecimentos.

- a) V – V – V – V.
- b) F – V – V – F.
- c) V – F – F – V.
- d) V – V – V – F.

35. Analise os itens.

1. “Wallon foi o primeiro a levar não só o corpo da criança, mas também suas emoções para dentro da sala de aula. Fundamentou suas ideias em quatro elementos básicos que se comunicam o tempo todo: a afetividade, o movimento, a inteligência e a formação do eu como pessoa.”
2. “Para Maturana e Varela não há sujeito, ou objeto separadamente para depois interagirem, não há a criança de um lado e a sua realidade (objetos que a circundam, ou outras pessoas etc.) de outro.”
3. “Wallon afirmava que o ser humano é organicamente social. Cada sujeito humano se torna o que é, constitui sua identidade e seu conhecimento, nos relacionamentos sociais. Somos sujeitos a partir do outro, pela mediação do outro, ou seja, a partir da linguagem, que se coloca entre nós e o mundo, para organizar a nossa relação com ele.”

São corretas as afirmações contidas:

- a) Apenas nos itens 1 e 3.
- b) Apenas nos itens 2 e 3.
- c) Apenas nos itens 1 e 2.
- d) Em todos os itens.

36. O Ensino Fundamental obrigatório, com duração de 9 (nove) anos, gratuito na escola pública, iniciando-se aos seis anos de idade, terá por objetivo a formação básica do cidadão, mediante:

1. O desenvolvimento da capacidade de aprender, tendo como meios básicos o pleno domínio da leitura, da escrita e do cálculo.
2. A compreensão do ambiente natural e social, do sistema político, da tecnologia, das artes e dos valores em que se fundamenta a sociedade.
3. O desenvolvimento da capacidade de aprendizagem, tendo em vista a aquisição de conhecimentos, habilidades e a formação de atitudes e valores.
4. O fortalecimento dos vínculos de família, dos laços de solidariedade humana e de tolerância recíproca em que se assenta a vida social.

Podemos afirmar que é correto o que está posto:

- a) Nos itens 1, 2, 3 e 4.
- b) Apenas nos itens 2, 3 e 4.
- c) Apenas nos itens 1, 3 e 4.
- d) Apenas nos itens 1 e 4.

37. À luz do Decreto nº 9.765/2019, que institui a Política Nacional de Alfabetização, indique a alternativa incorreta.

- a) Constitui mecanismo de avaliação e monitoramento da Política Nacional de Alfabetização, o desenvolvimento de indicadores para avaliar a eficácia escolar na alfabetização.
- b) São agentes envolvidos na Política Nacional de Alfabetização, dentre outros, organizações da sociedade civil.
- c) A adoção de referenciais de políticas públicas exitosas, nacionais e estrangeiras, baseadas em evidências científicas é um dos princípios da Política Nacional de Alfabetização.
- d) Literacia Familiar é o conjunto de conhecimentos, habilidades e atitudes relacionadas com a leitura e a escrita, desenvolvidos antes da alfabetização.

38. Analise se é (C) certo ou (E) errado o que se lê nos itens e marque a alternativa que apresenta sequência correta.

() Os sistemas de ensino disporão sobre a oferta de educação de jovens e adultos e de ensino noturno regular, adequado às condições do educando, conforme o inciso VI, do art. 4º, da Lei de Diretrizes e Bases da Educação Nacional.

() O dever do Estado com educação escolar pública será efetivado mediante, dentre outras, a garantia da oferta de educação escolar regular para jovens e adultos, com características e modalidades adequadas às suas necessidades e disponibilidades, garantindo-se aos que forem trabalhadores, as condições de acesso e permanência na escola.

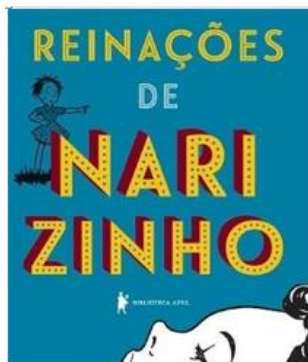
() A educação de jovens e adultos deverá articular-se, preferencialmente, com a educação profissional, na forma do regulamento.

- a) C – I – C.
- b) I – C – I.
- c) C – C – C.
- d) C – C – I.

39. Relacione as obras aos respectivos autores e marque a alternativa que apresenta sequência correta.




(1) História Mejo ao contrário.



(2) Reinações de Narizinho.



(3) Chapeuzinho Amarelo.



(4) História de dois amores.

- a) (1) Ana Maria Machado / (2) Monteiro Lobato / (3) Chico Buarque / (4) Carlos Drummond de Andrade.
b) (3) Chico Buarque / (4) Carlos Drummond de Andrade / (1) Ana Maria Machado / (2) Monteiro Lobato.
c) (2) Monteiro Lobato / (3) Chico Buarque / (1) Ana Maria Machado / (4) Carlos Drummond de Andrade.
d) (4) Carlos Drummond de Andrade / (1) Ana Maria Machado / (2) Monteiro Lobato / (3) Chico Buarque.



40. O Batalhão das Letras, primeira obra de [...] voltada para o público infantil, foi publicada, originalmente, em 1948. Inovador, o livro apresenta o alfabeto enquanto ensina poesia, ora ressaltando as formas gráficas das letras, ora seus fonemas. Um singular abecedário poético, em que o autor brinca com as letras e as palavras de nossa língua, o livro traz vinte e oito estrofes que apresentam o alfabeto, suas formas gráficas e seus fonemas, sempre em associação aos objetos e ao ambiente do universo infantil.

Quem é o autor desta obra?

- a) Ziraldo Alves Pinto.
b) Mário de Miranda Quintana.
c) Maurício Araújo de Sousa.
d) José Bento Renato Monteiro Lobato.

RASCUNHO.